

---

# Szövegértő verseny

## 4. osztály

### 2015

Név: \_\_\_\_\_

Iskola: \_\_\_\_\_

Elért pontszám:

60/


**Hasznos tanácsok:**

- 45 percig dolgozhatsz!
- Tollal írd!
- Figyelj az utasítás pontos végrehajtására!
- Ügyelj a szép külalakra, a helyesírásra!
- Ellenőrizd a munkád!


**Jó versenyzést kívánunk!**



Gyenesdiás, 2015. április 23.



## A szarka és a szajkó



A **szarka** eredetileg nyílt, megművelt, sövényekkel és fákkal szegélyezett területek lakója volt, de kultúrakövető madár lévén ma már a városok, falvak kertjeiben, parkjaiban, temetőiben és egyéb zöldterületen is él. Hűséges a költőhelyéhez, és télen is őrzi a territóriumát.

Jól tud élni azzal, amit a megművelt föld kínál. Állati és növényi eredetű táplálékot is fogyaszt, így pl. férgeket, csigákat, rovarokat, magvakat, makkot és bogyókat. Még az egeret is el tudja kapni. Ezen kívül nagy mennyiségben zsákmányol tojásokat és madárfiókákat is, elsősorban énekesmadaraktól. Az apróvad állomány retteg is a fészekrabló szarkától. Mivel mindenevő, a hulladékot és a dögöt sem veti meg. Táplálékát a talajon járkálva szerzi meg.

Tartós kapcsolatban él. Előszertettel költ magas, magányos fákon, de sövény, bozót közt és épületek tetején is fészkel. Ősszel és télen, az alacsonyabb fűzfákon, nyárfákon éjszakázik, sok másik fajtársa társaságában. Hatalmas fészke jellegzetes gömb alakú, zárt, bejárata oldalt helyezkedik el. Az aljába ragasztott agyagrétegnek köszönhetően a fészkek több éven át használhatóak.

Párási időszaka március-április. A költési ideje 17-18 nap. Fészekaljában 4-8 fiókát nevel. A csupaszon kikelt fiókákról mindkét szülő gondoskodik. A fiókák 22-24 napig maradnak a fészkekben, de ritkán akár 28 napig is.

Teljes testhossza 44-48 cm, szárnyának fesztávolsága 52-56 cm. A röpte rendszertelen és nehézkes. Tollazata fekete fehér színű, farka zöldesen csillog. Súlya 200-250 g. Hangja jellegzetes, „csörgés”-re emlékeztet.

A **szajkó** a síkságoktól a hegységekig erdőkben, mezők fás területein és parkokban él gerinctelen állatokkal táplálkozik, de az énekesmadarak fészkeit is kifosztja, elrabolva a tojásokat és a fiókákat. Ezen kívül makkot, bükkmakkot, dióféléket, bogyókat és egyéb magvakat fogyaszt. A talajba rejtja a télire begyűjtött eleséget, ám az elfelejtett magokból nagyobb tölgy- és bükkerdők nőnek.

Jellegzetes kereplő hangjával gyakran figyelmezteti a vadászt a közelben lévő ragadozó vagy vaddisznó jelenlétére, ugyanakkor környezetét is figyelmezteti az ember közeledésére. Fürgén mozog az ágakon és a talajon, hullámzó röpte viszont nehézkes.

Tartós kapcsolatban él, fészkeit kb. 5 m magasságban, aljnövényzetben gazdag erdőben helyezi el. Párási időszaka február-március. A költési ideje 16-17 nap. Fészekaljában 3-6 fiókát nevel. A tojásokon mindkét szülő kotlik. A fiókák csupaszon kelnek ki a tojásból, és 16-20 nap múlva repülnek.

Teljes testhossza 32-35 cm, szárnyának fesztávolsága 54-58 cm. Tollazata túlnyomórészt vörösbarna, a fejtető világos alapon feketével csíkozott. A csőr tövétől lefelé fekete kantárcsik látható. A szárny világoskék alapon fekete csíkos. A farkok színe fekete. Súlya 140-190 g.

Mindkét madár Magyarországon csak a vadásziidényben vadászható.

*Ekkehard Ophoven: Vadon élő állatok című könyve alapján*

1. Az olvasottak alapján nevezd meg a madarakat! Írd a nevét a képe mellé! 2/
2. Keretezd be azokat a bekezdéseket, amelyek a madarak táplálkozásáról szólnak! 2/
3. Mutasd be a szöveg alapján a szarka fészkrét! Írd a fürtábrába röviden a jellemző adatokat! 7/



4. Jelöld X-szel, melyik madárra igaz az állítás! 11/

Meghatározás	Szarka	Szajkó
Testhosszát tekintve nagyobb méretű.		
A kifejlett madár súlya kisebb.		
Kantárcsík van a fején.		
A tojó több tojást rak.		
A fiókák 3 hétnél tovább maradnak a fészkekben.		
Kereplő hangot ad.		
Mindenevő.		
Eleséget gyűjt télire.		
Röpte nehézkes.		

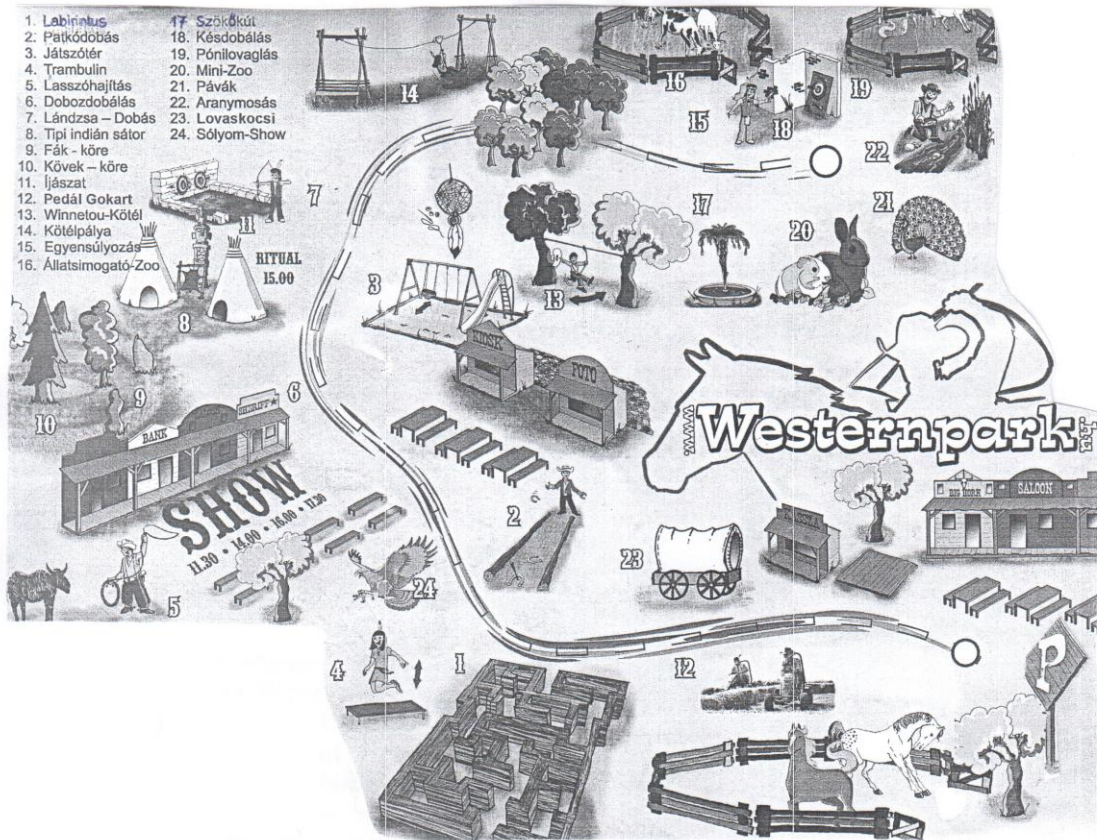
5. Következtess! Melyik madarat nevezhetjük az „Erdő őrének” is? Miért? Indokold állításodat! 2/

\_\_\_\_\_

\_\_\_\_\_

6. Írj öt olyan állítást, amely mindkét madárra jellemző! Röviden fogalmazz! 5/

1. \_\_\_\_\_
2. \_\_\_\_\_
3. \_\_\_\_\_
4. \_\_\_\_\_
5. \_\_\_\_\_



**SZABADIDŐPARK**  
vadnyugati hangulatban  
egész napos szabadidős  
programok családoknak

**ÉTTERMÜNK KÍNÁLATA:**  
Westernpizza, Cowboy Chili,  
Marhapörkölt, Texaskolbász

**ÁRAK 2013**

3 éves kor alatt	ingyenes
3 éves kortól	1900 Ft / fő
Felnőtt	2200 Ft / fő
Nyugdíjas	1900 Ft / fő
Csoportok 15 fős létszámtól	1600 Ft / fő

**NYITVA**  
Május 1-től - Augusztus 31-ig  
Naponta nyitva 10 - 18 óráig

**PROGRAMM:**

11.30 BANKRABLÁS  
BANKRAUB  
14.00 COWBOY-INDIÁN-LOVAGLÁS  
COWBOY-INDIANER-REIT-SHOW  
15.00 INDIÁN RITUÁLÉ  
INDIANER RITUAL  
16.00 SÚLYOM-SHOW  
GREIFVOGEL-SHOW  
17.30 PÓKER-SHOW  
POKER-SHOW

**A belépő tartalmazza az egész napos szabadidős programokat és show-műsorokat.**

**WWW.WESTERNPARK.HU**  
Tel - HU: 06 20 41 41 252 vagy  
e-mail: info@westernpark.hu

Sümeg  
84  
Tapolca  
Nemesvita 4km  
Keszthely  
71  
BALATON

1. Jelöld sárga satírozással a rajzos térképen azokat a sorszámokat, amelyek állatokkal kapcsolatos programokra utalnak! 5/

2. Olvasd le a térképről a Westernparkra vonatkozó adatokat! 4/

Melyik két település között helyezkedik el? \_\_\_\_\_

A Balatontól hány kilométerre fekszik? \_\_\_\_\_

Sümege felől érkezve hányas számú főút mellett található? \_\_\_\_\_


3. Nevezd meg a Westernpark elérhetőségeit! 3/

\_\_\_\_\_

4. a) Fejtsd meg a keresztrejtvényt!

10/

1. A 10-es sorszám jelzi a térképen.
2. A 11 óra 30 perckor kezdődő program neve.
3. Ez a jegy 1900 Ft-ba kerül.
4. Ez a neve a 13-as sorszámú kötélpályának.
5. Madárnév, amelyről show-t neveztek el.
6. Ebben a hónapban nyit ki a szabadidőpark.
7. Ennyi hónapon át tart nyitva a park.
8. Az étterem egyik ételkínálatának neve.
9. Hány órakor zár be a park?



Megfejtés: \_\_\_\_\_

b) Fogalmazd meg röviden, milyen összefüggést fedezel fel a megfejtés és a tájékoztatóban olvasottak között?

2/

5. Számold ki, mennyibe kerül a belépő egy négytagú családnak! Írd le számfeladattal! (2 felnőtt, egy 10 éves és egy három év alatti gyermek)

2/

6. Ha az osztályoddal mennél el a parkba, kapnátok-e csoportos kedvezményt? Miért?

2/

7. Karikázd be a rajzos térképen azt a három helyszínt, amelyet te is szívesen kipróbálnál!

3/